











水溶液の性質（マローブルーの指示薬でなその粉を調べよう）

1. 結果の記録

粉	A	B	C	D	E
粉の持ちよう (色・形・つぶの大きさなど)					
液の持ちよう (色・溶けたか、など)					
液の色と水溶液の性質 (正している色に○)	  酸性 中性 アルカリ性 pH _____	  酸性 中性 アルカリ性 pH _____	  酸性 中性 アルカリ性 pH _____	  酸性 中性 アルカリ性 pH _____	  酸性 中性 アルカリ性 pH _____
予想					
答え					

2. わかったことや感想